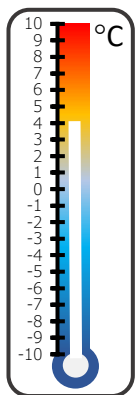
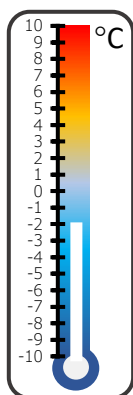


# Zimno, zimniej, najzimniej

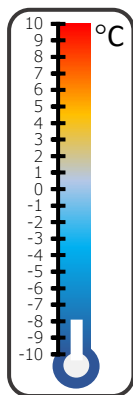
Wojtek codziennie rano sprawdzał na termometrze, jaka jest temperatura na dworze. Pomóż chłopcu uzupełnić jego notatki. Następnie odpowiedz na pytania w tabeli, zakreślając litery we właściwych kolumnach. Litery te, czytane z góry na dół, utworzą hasło. Zapisz je w wyznaczonym miejscu i odczytaj informacje z nim związane.



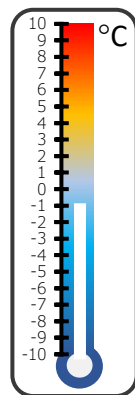
Poniedziałek  
4°C



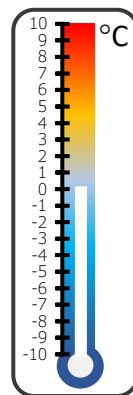
Wtorek  
-2°C



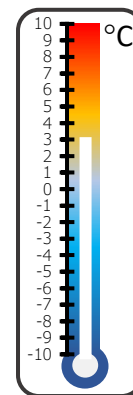
Środa  
.....°C



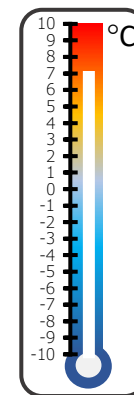
Czwartek  
.....°C



Piątek  
.....



Sobota  
.....



Niedziela  
.....

CZY...	TAK	NIE
... najzimniej było w piątek?	O	C
... w środę było cieplej niż w czwartek?	K	E
... mrozy zaczęły się we wtorek?	L	W
... w niedzielę było o 4 stopnie cieplej niż w sobotę?	S	A
... w sobotę temperatura była o 3 stopnie niższa niż w piątek?	E	I
... w czwartek było zimniej niż w poniedziałek?	U	T
... najwyższa temperatura była w środę?	B	S

**HASŁO:**

ANDERS \_ \_ \_ \_ \_

żył w osiemnastym wieku. Był szwedzkim fizykiem i astronomem. Stworzył skalę pomiaru temperatur opartą o punkt topnienia lodu oraz wrzenia wody. Skala ta, choć nieco zmieniona, wciąż jest stosowana w wielu krajach, w tym także w Polsce.

